


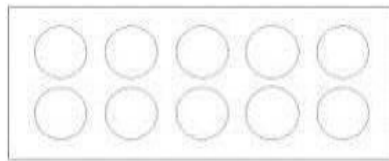


() ねん () くみ () ばん

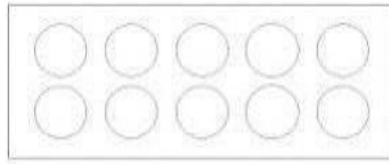


なまえ ()

1 えをみて こたえましょう。


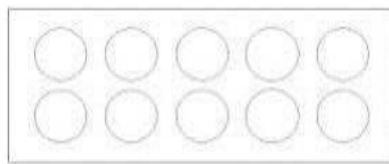
- (1) ぼうしは なんこ ありますか。
 おなじ かずだけ ○を ぬりましょう。
 また □のなかに かずを かきましょう。



- (2) りんごは なんこ ありますか。
 おなじ かずだけ ○を ぬりましょう。
 また □のなかに かずを かきましょう。

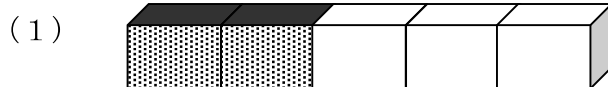


- (3) あめは なんこ ありますか。
 おなじ かずだけ ○を ぬりましょう。
 また □のなかに かずを かきましょう。

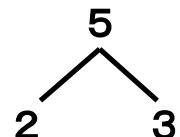


2 5は いくつと いくつ ですか。

□のなかに かずを かきましょう。



と



と



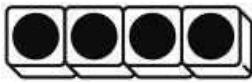
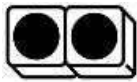


() ねん () くみ () ばん

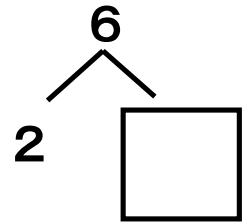
なまえ ()

1 □のなかに かずを かきましょう。

(1)



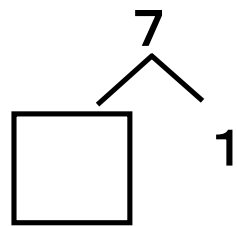
6 は 2 と □



(2)

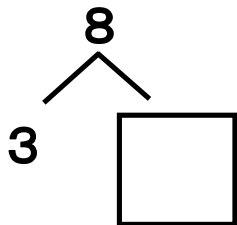


7 は □ と 1

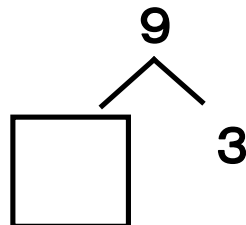


2 □のなかに かずを かきましょう。

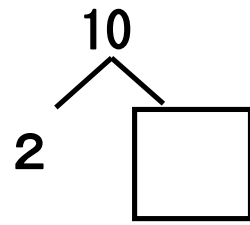
(1)



(2)

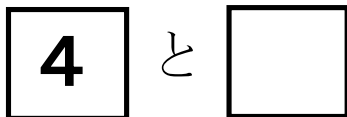


(3)

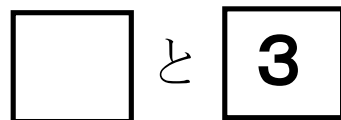


3 2まいで 10に しましょう。

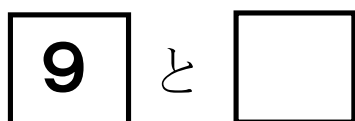
(1)



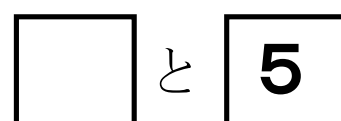
(2)



(3)



(4)

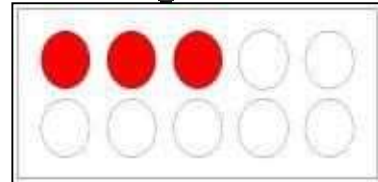
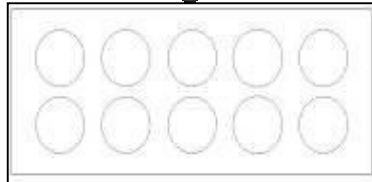
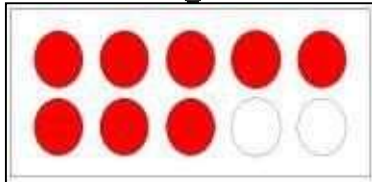
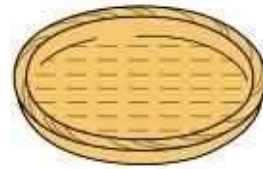
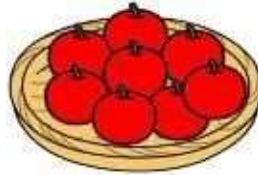
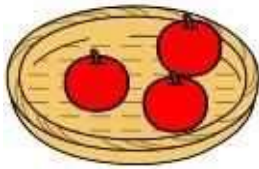




() ねん () くみ () ばん

なまえ ()

1 りんごは なんこ ありますか。 え と ずを せんで むすびましょう。
また ず と かずを せんで むすびましょう。

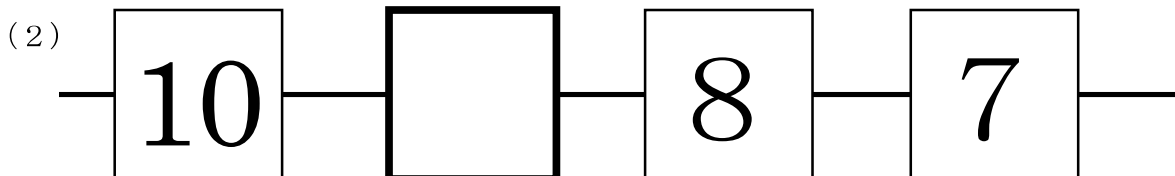
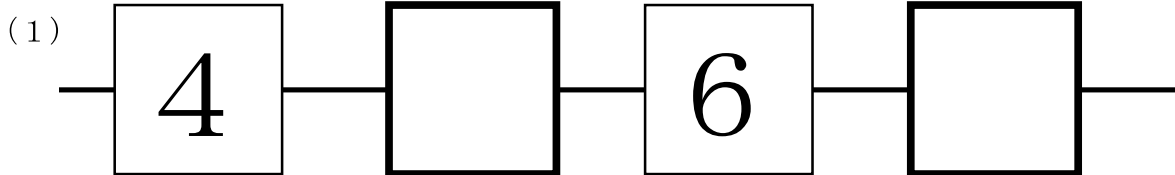


3

0

8

2 □のなかに かずを かきましょう。






() ねん () くみ () ばん

なまえ ()

1 えを せんで かこみましょう。

(1) まえから 4 にん

まえ



うしろ

(2) うしろから 2 だいめ

まえ



うしろ

(3) ひだりから 3 ばんめ

ひだり




みぎ

2 いちごは どこに ありますか。

えを みて □にはいる ことばや かずを かきましょう。

ひだり



みぎ

「いちごは □ から □ ばんめ です。」

3 かえるが のっている でんしゃは どこですか。

ことばや かずを つかって こたえましょう。

まえ



うしろ

「かえるが のっている でんしゃは

□


です。」



()ねん ()くみ ()ばん

なまえ ()

1 えをみて、しきにかきましょう。



$$\square + \square = \square$$



$$\square + \square = \square$$


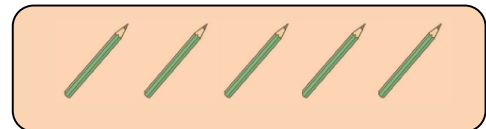
2 ねこが 3びきと 4ひき います。
 みんなで なんびきに なりますか。
 しきに かいて こたえましょう。



しき

こたえ

3 えんぴつが 5ほん と 4ほん あります。
 あわせて なんぼんに なりますか。
 しきに かいて こたえましょう。



しき

こたえ

4 □の なかに はいる ことばを かきましょう。

2 + 1 や 3 + 5 のような けいさんを、

と います。



() ねん () くみ () ばん




なまえ ()

1 □の なかに はいる かずを かきましょう。

(1) 4に 1を たすと、 になります。

(2) 2に 6を たすと、 になります。

2 えを みて、しきに かいて こたえましょう。



2わ います。

➡ 5わ きました。

➡ みんなで
なんわに
なりましたか。

しき

こたえ

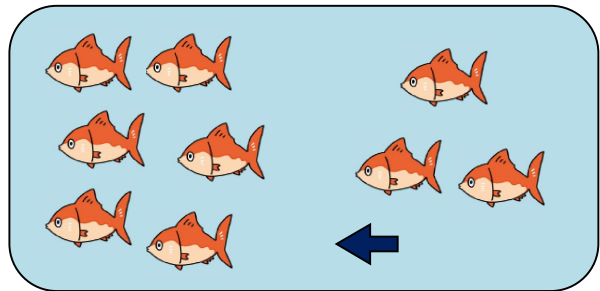
3 さかなが 6ぴき います。

3ぴき きました。

さかなは ぜんぶで

なんぴきに なりましたか。

しきに かいて こたえましょう。



しき

こたえ

4 おなじ かあどの おもてと うらを せんで むすびましょう。

おもて


うら



() ねん () くみ () ばん

なまえ ()


1 はとが 4わ います。
 3わ とんで いくと、のこりは
 なんわに なりますか。
 しきに かいて 答えましょう。



しき


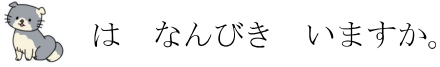
こたえ


2 みかんが 6こ あります。
 2こ たべると、のこりは
 なんこに なりますか。
 しきに かいて 答えましょう。



しき

こたえ

3 ねこが 9ひき います。
 は 5ひき です。
 は なんひき いますか。
 しきに かいて 答えましょう。



しき

こたえ

4 ひきざんを して、□の なかに はいる かずを 答えましょう。

(1) $3 - 2 = \square$

(2) $5 - 3 = \square$

(3) $7 - 1 = \square$

(4) $8 - 4 = \square$

(5) $6 - 5 = \square$

(6) $10 - 7 = \square$



() ねん () くみ () ばん

なまえ ()

1 □ の なかに はいる かずを かきましょう。


(1) 4 から 1 を ひくと、 □ に なります。

(2) 9 から 7 を ひくと、 □ に なります。

2 りんごが 7 こ あります。


かきが 4 こ あります。


りんごは、かきより なんこ
おいでしょうか。



しき


こたえ

3  が 5 ひき います。

 が 3 ひき います。

 と  の かずの


ちがいは なんびきですか。



しき

こたえ

4 だいこんと にんじんでは、どちらが
なんぼん おいでしょうか。



しき

こたえ

が

ほん おい。

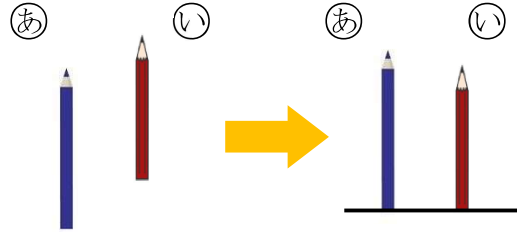


() ねん () くみ () ばん

なまえ ()

1 ①の えんぴつと ②の えんぴつの
ながさを くらべました。

(1) ①と ②の どちらが
ながいでしょうか。



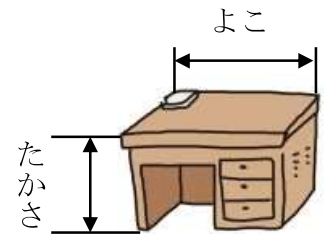
(2) どのように して くらべて いますか。

①、②、③の なかから 1つ えらんで こたえましょう。

- ① はしを そろえて くらべて いる。
- ② まっすぐに のぼして くらべて いる。
- ③ おって かさねて くらべて いる。

2 つくえの たかさと よこの ながさを くらべるのに
ただしい しらべかたを ㊦から ㊧の なかから
2つ えらんで こたえましょう。

- ㊦ はしを そろえて くらべる。
- ㊧ テープに うつしとって、ながさを くらべる。
- ㊨ おって かさねて くらべる。
- ㊩ ゆびを ひろげた ながさが、いくつぶん
なるかで くらべる。



3 いろいろな ものの ながさを テープに うつしとって くらべました。



(1) ロッカーの はばと すいそうの ふかさは、
どちらが ながいでしょうか。

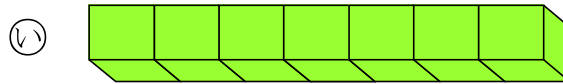
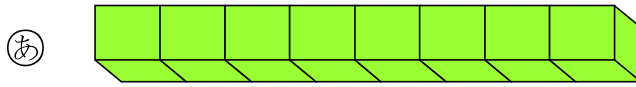
(2) いちばん ながいのは どれでしょうか。



() ねん () くみ () ばん

なまえ ()

1 ゆみさんは、**あ**と **い**の どちらが ながいかを せつめい しました。



(1) □に はいる かずを かきましょう。

(2) **あ**と **い**の どちらが ながいでしょうか。

(ゆみさんの せつめい)

あは、ブロック つぶんの ながさです。

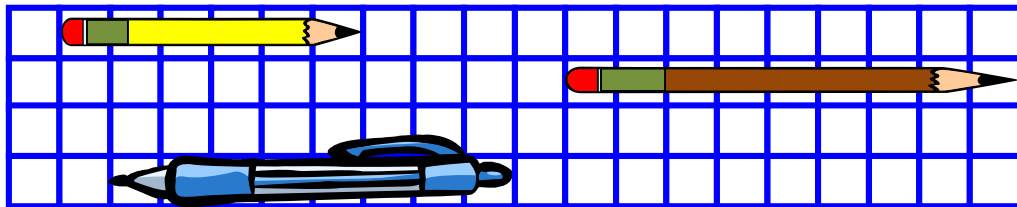
いは、ブロック つぶんの ながさです。

だから、 ? の ほうが ながいです。

こたえ

2 つぎの もんだいに こたえましょう。

あ



う

い

(1) **あ**、**い**、**う**は、それぞれ ますの いくつぶんの ながさですか。

あ ますの つぶんの ながさ

い ますの つぶんの ながさ

う ますの つぶんの ながさ

(2) **あ**と **う**では、どちらが どれだけ ながいですか。



() ねん () くみ () ばん

なまえ ()

1 どうぶつたちが あつまって います。
つぎの もんだいに こたえましょう。



(1) どうぶつの かずだけ いろを ぬりましょう。

りす	たぬき	きつね	きりん	ぞう

(2) いちばん おおい どうぶつは どれですか。

(3) いちばん すくない どうぶつは どれですか。

(4) ほかに も わかった ことを かきましよう。

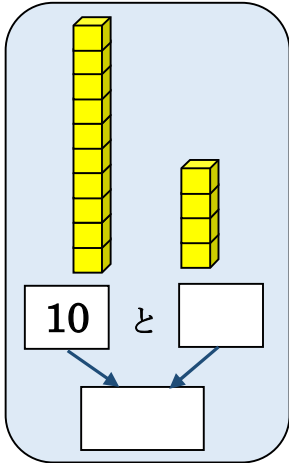


() ねん () くみ () ばん

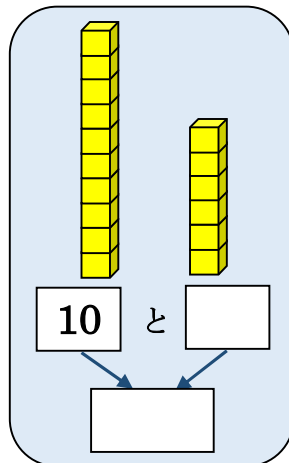
なまえ ()

1 □に はいる かずを かきましょう。

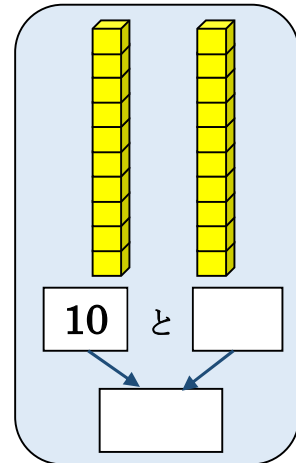
(1)



(2)



(3)




2 えをみて かずを こたえましょう。


(1)



(2)

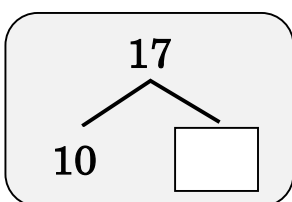


(3)

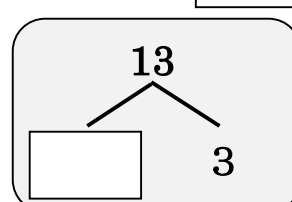


3 □に はいる かずを かきましょう。

(1) 17は 10と □



(2) 13は □と 3





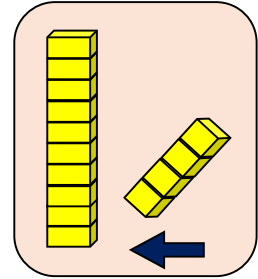
() ねん () くみ () ばん

なまえ ()

1 □に はいる かずを かきましょう。

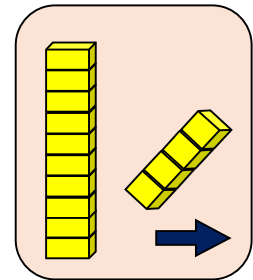
(1) 10に 4を たした かずは □ です。

$$\text{しき } 10 + \square = \square$$



(2) 14から 4を ひいた かずは □ です。

$$\text{しき } 14 - \square = \square$$



2 つぎの けいさんを しましょう。

(1) 10 + 6

(2) 15 - 5

(3) 13 + 2

(4) 17 - 3

3 こたえが おなじ ^{かあど}カードを せんで むすびましょう。

$$15 + 3$$

$$12 + 4$$

$$11 + 2$$

$$13 + 1$$

$$19 - 3$$


$$18 - 4$$

$$19 - 1$$

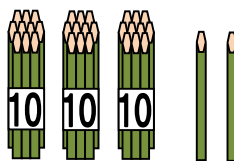
$$15 - 2$$

4 ぼうの かずを こたえましょう。

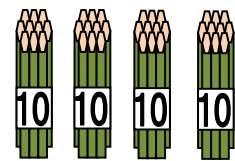
(1)



(2)



(3)



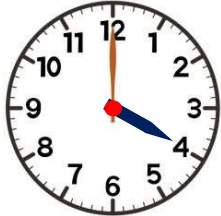


() ねん () くみ () ばん

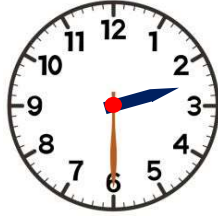
なまえ ()

1 とけいを よみましょう。

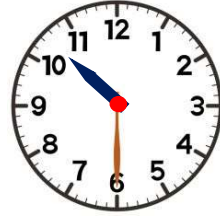
(1)



(2)




(3)




2 8じはんの とけいは どれですか。

あ



い

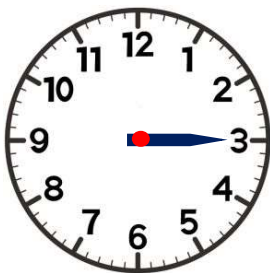


う

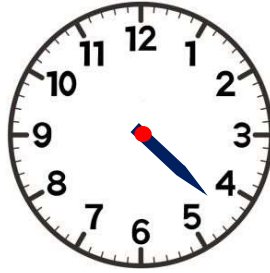


3 ながい はりを かきましょう。

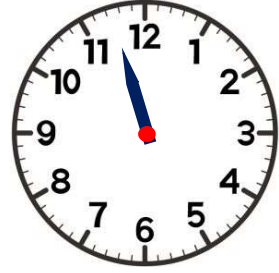
(1) 3じ



(2) 4じはん



(3) 11じはん



4 とけいを みて、 □に はいる かずを かきましょう。

9じはんの とけい

みじかい はりは、 □ と □ の
あいだに あります。

ながい はりは □ を さして います。




9じはん



() ねん () くみ () ばん

なまえ ()

1 りんごは ぜんぶで なんこに になりましたか。



しき

こたえ

2 □に はいる かずを かきましょう。

(1) $4 + 2 + 3 = \square$
 6

(2) $5 + 3 + 2 = \square$
 □

3 つぎの けいさんを しましょう。

(1) $4 + 1 + 3$

(2) $8 + 2 + 7$

(3) $4 + 6 + 5$

□

□

□

4 $6 + 4 + 3$ の しきに なる もんだいは どちらですか。

□

あ

バスに 6 にん のって います。
 つぎに 4 にん のって きました。
 さいごに 3 にん のって きました。
 バスに のっているのは、
 みんなで なんにんに になりましたか。

い

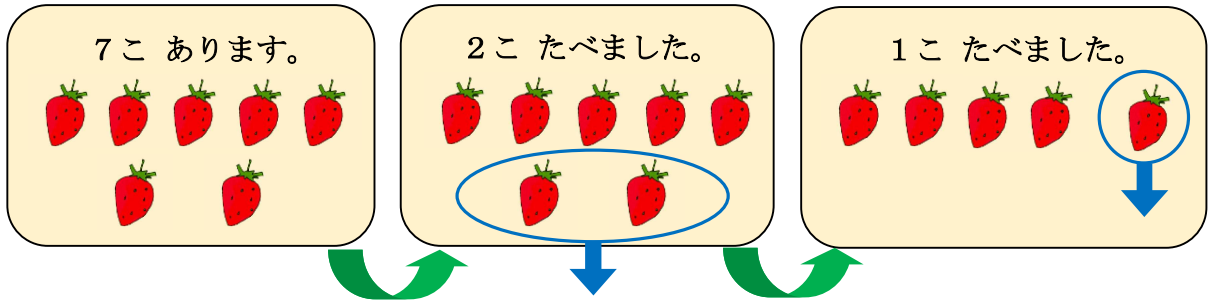
バスに 6 にん のって います。
 つぎに 3 にん のって きました。
 さいごに 4 にん のって きました。
 バスに のっているのは、
 みんなで なんにんに になりましたか。



() ねん () くみ () ばん

なまえ ()

- 1 いちごが 7 こ あります。 2 こ たべました。 また 1 こ たべました。
いちごは なんこに なりましたか。



しき

こたえ

- 2 つぎの けいさんを しましょう。

(1) $9 - 3 - 5$

(2) $12 - 2 - 6$

(3) $16 - 6 - 7$

- 3 $8 - 3 + 4$ の しきに なる もんだいを つくります。

Ⓐ から ⓓ の なかから えらんで □ に かきましょう。

- Ⓐ でんしゃに 8 にん のって います。
- Ⓛ 3 にん のって きました。
- Ⓚ 3 にん おりました。
- Ⓔ 4 にん のって きました。
- ⓓ 4 にん おりました。

でんしゃに のって いるのは、
みんなで なんにんに なりましたか。

- 4 つぎの けいさんを しましょう。

(1) $7 - 2 + 3$

(2) $10 - 6 + 1$

(3) $4 + 6 - 3$



() ねん () くみ () ばん

なまえ ()

1 ㊦と ㊧に はいる みずは、
どちらが おおいでしょうか。

㊦に はいって いる みずを
㊧に いれたら みずは
あふれて しまいました。



2 ㊨と ㊩に はいる みずは、
どちらが おおいでしょうか。

㊩には まだ みずが
いれられます。



3 ㊪と ㊫に はいって いる みずは、
どちらが おおいでしょうか。
また、その わけを
かきましょう。

㊪と ㊫は おなじ
いれもの です。



わけは、みずの _____ を くらべると
_____ の ほうが たかいから です。

4 ㊬と ㊭に はいって いる みずは、
どちらが おおいでしょうか。

㊬と ㊭の みずの
たかさは おなじ です。





() ねん () くみ () ばん



なまえ ()

1 ㊸と ㊹に はいつて いる みずは、
 どちらが どれだけ おおいか、
 けんたさんと まみさんは、
 くらべかたを かんがえました。
 □に はいる ことばや かずを
 かきましょう。



けんた

おなじ おおきさの ^{こっぷ} コップを
 つかって みずの かさを
 くらべる ことが できます。



まみ






㊸は、コップ □ ぱい ぶん
 ㊹は、コップ □ はい ぶん です。



けんた

□ の ほうが、コップ □ はい ぶん
 みずが おおく はいつて います。

2 はいつて いる みずが おおい じゆんに かきましょう。





() ねん () くみ () ばん

なまえ ()

1 いつきさんは $3+8$ の けいさんを つぎの ように かんがえました。



いつき

8 の ほうが 10 に ちかいから、3 を 1 と 2 に わけます。
 8 に 2 を たして 10 に なります。
 10 と 1 で 11 です。

いつきさんの かんがえに あう ずは、(あ)、(い) の どちらですか。

(あ) ○○○ ○○○○○○○○○○

(い) ○○○○ ○○○○○○○○○○

2 つぎの けいさんを しましょう。

(1) $5+9$

(2) $4+7$

(3) $6+8$

3 **$7+5$** の こたえと おなじ こたえの かあと カードに ○を つけましょう。

$9+4$

$5+8$

$6+6$

$5+7$


$3+9$

$7+4$

$8+6$

$4+8$

4 あおいさんは もみじの はっぱを 7まい ひろいました。
 ともだちから 8まい もらいました。
 ぜんぶで なんまいに なったでしょうか。



しき

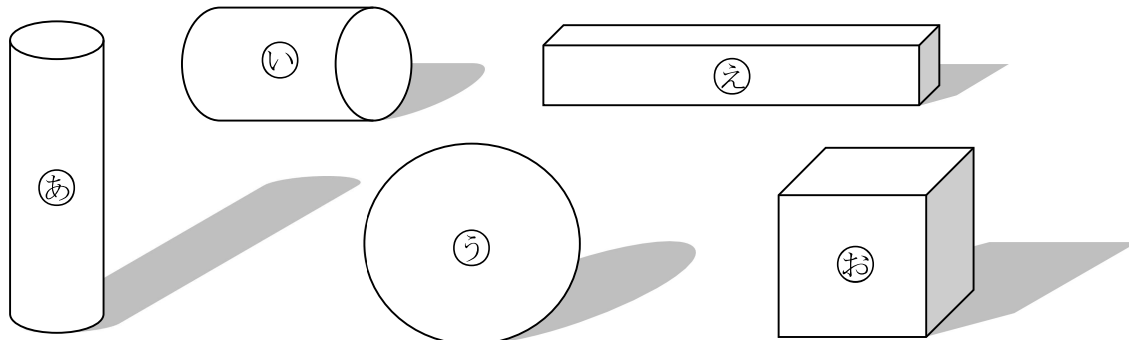
こたえ



() ねん () くみ () ばん

なまえ ()

1 つぎの もんだいに こたえましょう。



(1) ころがる かたちを ㊦ から ㊦ の なかから 3つ えらびましょう。

_____ と _____ と _____

(2) たいらな ところと まるい ところがある かたちを

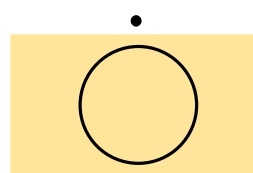
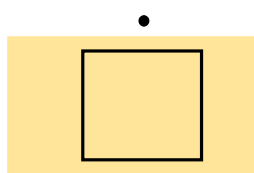
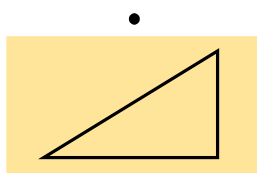
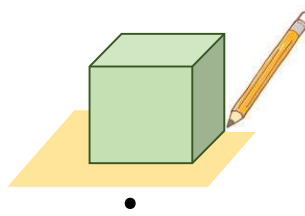
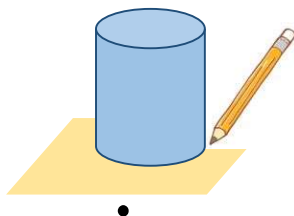
㊦ から ㊦ の なかから 2つ えらびましょう。

_____ と _____

(3) さいころと にて いる かたちを ㊦ から ㊦ の なかから えらびましょう。



2 うつした かたちを せんで むすびましょう。





() ねん () くみ () ばん

なまえ ()

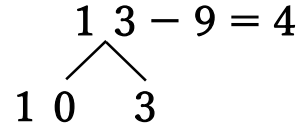
1 はるみさんは 13-9の けいさんの しかたを いいました。
□に はいる かずを かきましよう。

13を □と □に わけます。

3から 9は ひけません。

□から 9を ひいて、 □に なります。

1と 3で 4です。



はるみ

2 つぎの けいさんを しましよう。

(1) 12-8

(2) 15-9

(3) 11-7

(4) 13-6

(5) 11-8

(6) 14-9

3 どんぐりが 12こ あります。
なつおさんは こうさくで 7こ つかいます。
のこりは なんこに なりますか。



しき _____

こたえ _____



()ねん ()くみ ()ばん

なまえ ()

1 あきとさんは 13-4の けいさんの しかたを つぎの ように かんがえました。



あきと

4を 3と 1に わけます。
13から 3を ひいて 10です。
10から 1を ひいて こたえは 9です。

あきとさんの かんがえに あう ずは、㊷、㊸の どちらですか。

㊷ ○○○○○○○○○○ ○○○

㊸ ○○○○○○ ○○○○
○○○

2 つぎの けいさんを しましょう。

(1) 12-3

(2) 14-6

(3) 11-2

(4) 13-5

(5) 12-4

(6) 15-6

3 おりがみが 11まい あります。
ふゆみさんは 3まい つかいました。
のこりは なんまいに なりましたか。



しき _____

こたえ _____



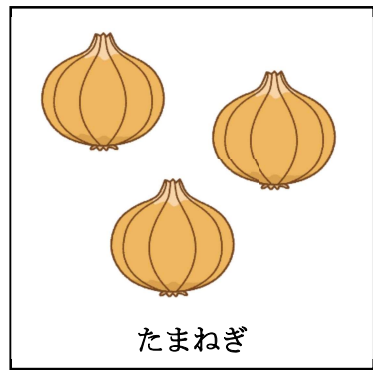


() ねん () くみ () ばん

なまえ ()

1 13-8 の こたえと おなじ こたえの カードに ○を つけましょう。

15-9	14-7	11-6	14-9	13-7
11-7	12-6	13-8	15-6	12-4

2 つぎの えを みて、 もんだいを つくります。
□に あう かずや ことばを [] から えらんで かきましょう。



(1) とまとが □ こ あります。2こ たべました。

[] は なんこ ですか。

(2) きゃべつが □ こ あります。 たまねぎが □ こ あります。

[] は なんこ ですか。

[] 2 3 5 のこり ちがい

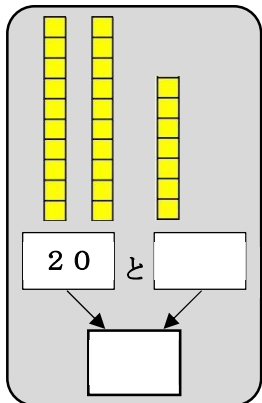


() ねん () くみ () ばん

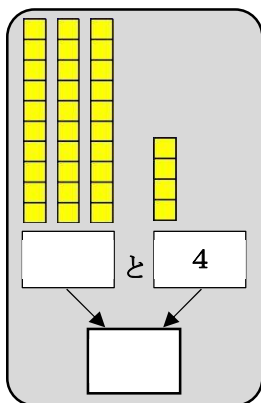
なまえ ()

1 □に はいる かずを かきましょう。

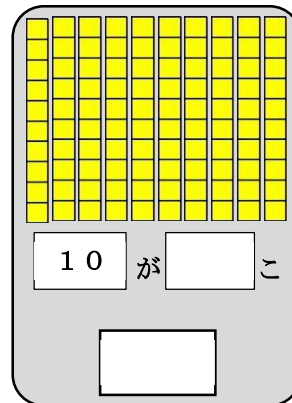
(1)



(2)

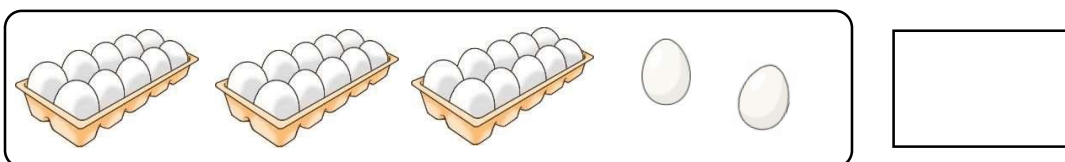


(3)




2 えを みて かずを こたえましょう。

(1)



(2)



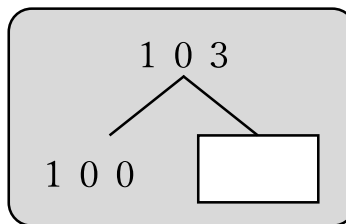
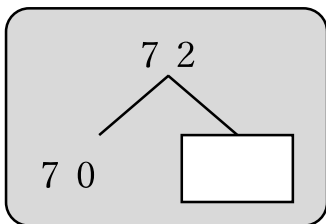
(3)



3 □に はいる かずを かきましょう。

(1) 72は 70と □

(2) 103は 100と □





() ねん () くみ () ばん

なまえ ()

かずのせん



1 かずが おおきい ほうに まるを つけましょう。

(1) 20 24 (2) 53 35 (3) 17 71

2 □に はいる かずを かきましょう。

(1) — 30 — — 32 — — 34 — 35 —

(2) — 18 — — 22 — — 26 — 28 —

(3) — 99 — — 101 — — 103 — —

3 □に はいる かずを かきましょう。

- (1) 21より 3 おおきい かずは です。
- (2) 40より 2 ちいさい かずは です。
- (3) 67は 63より おおきい かずです。
- (4) 99より 1 おおきい かずは です。



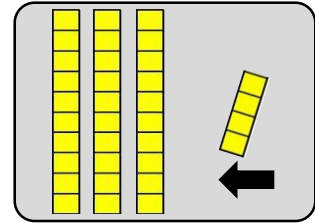
() ねん () くみ () ばん

なまえ ()

1 □に はいる かずを かきましょう。

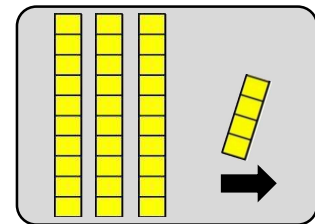
(1) 30に 4を たした かずは □です。

しき 30 + □ = □



(2) 34から 4を ひいた かずは □です。

しき 34 - □ = □



2 つぎの けいさんを しましょう。

(1) 50 + 3

□

(2) 72 - 2

□

(3) 45 + 3

□

(4) 28 - 3

□

(5) 30 + 20

□

(6) 60 - 40

□

3 100えんで かえる ものは どれですか。

㊦



パン150えん

㊧



えんぴつ98えん

㊨



ジュース102えん

□



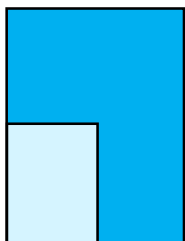
() ねん () くみ () ばん

なまえ ()


1 いろがようしの ひろさを くらべます。くらべかたで よいものに ○を つけ ましょう。



()



()




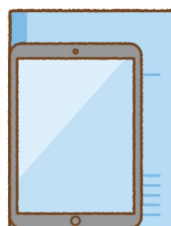
()

2 ㊦と ㊧では、どちらが ひろいでしょうか。

㊦




㊧






3 ㊨と ㊩では、どちらが ひろいでしょうか。

㊨




㊩






4 ㊪と ㊫では、どちらが ひろいでしょうか。

㊪



㊫


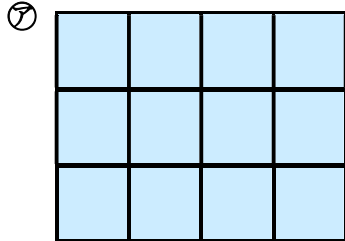




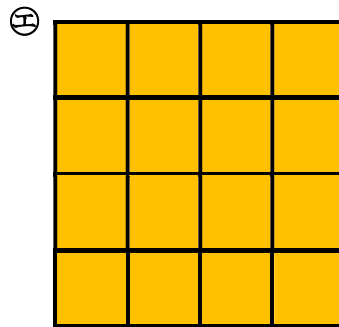
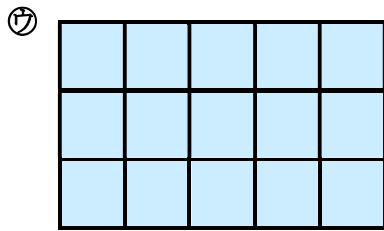
() ねん () くみ () ばん

なまえ ()

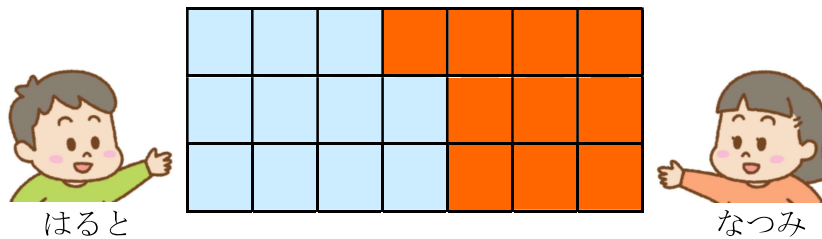
1 ㊦と ㊧では どちらが ひろいでしょうか。



2 ㊨と ㊩では どちらが ひろいでしょうか。



3 はるとさんと なつみさんが じんとり あそびを しました。 じゃんけんで かったら、1ます ぬります。 □に はいる かずや ことばを かきましょう。



はるとさんは ますぶん、 なつみさんは ますぶん です。

ひろさを くらべると、 さんの ほうが、 ますぶん

ひろいです。



() ねん () くみ () ばん

なまえ ()

1 () から ^{ただ}正しいことばを えらんで ○で かこみましょう。

みじかいはりで、(なんじ・なんぷん・なんびょう) が わかります。
 みじかいはりが、9と10のあいだなので(9じ・10じ) です。
 ながい はりで、(なんじ・なんぷん・なんびょう) が わかります。
 ながい はりが、4を さしているので(4ふん・20ふん) です。



2 () にあてはまる すう字を かきましょう。

ながいはりの 1めもりは、1ふんです。

() ふん

() ふん

() ふん

() ふん

() ふん

() ふん

() ふん

5ふん

10ふん

() ふん

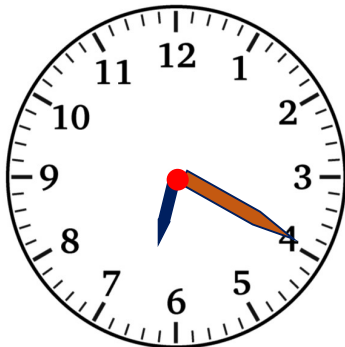
() ふん

25ふん

30ふん

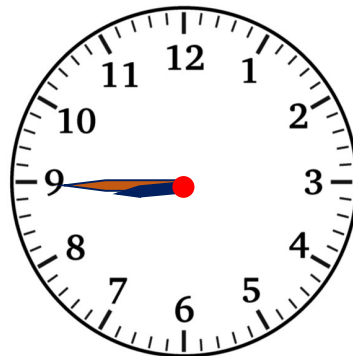
3 とけいを よみましょう。

(1)



じ ふん

(2)



じ ふん

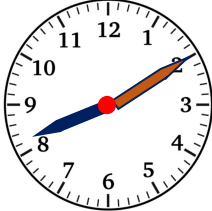


() ねん () くみ () ばん

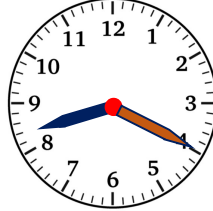
なまえ ()

1 とけいを よみましょう。

(1)



(2)

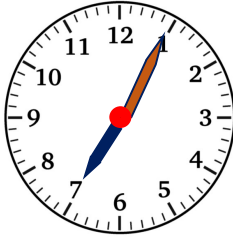


(3)

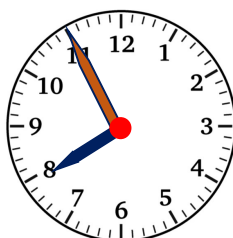


2 8じ5ふん は どれですか？

(1)



(2)



(3)

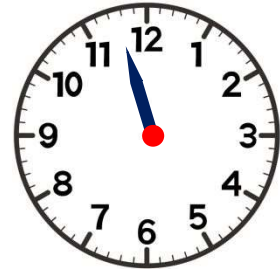
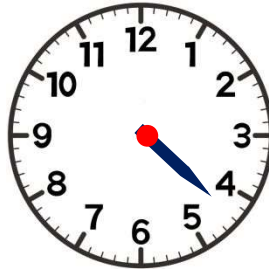
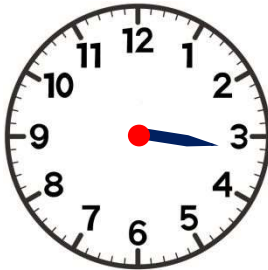


3 とけいに ながいはりを かいて かんせい させましょう。

(1) 3じ10ふん

(2) 4じ20ふん

(3) 11じ25ふん

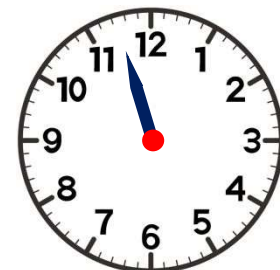
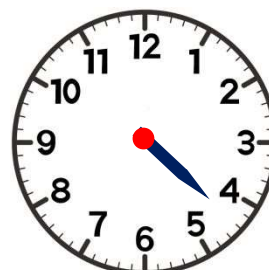
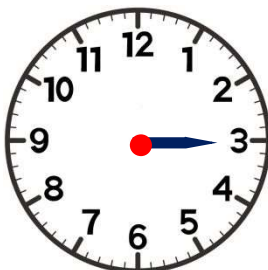


4 とけいに ながいはりを かいて かんせい させましょう。

(1) 3じ11ふん

(2) 4じ33ふん

(3) 11じ37ふん





() ねん () くみ () ばん

なまえ ()

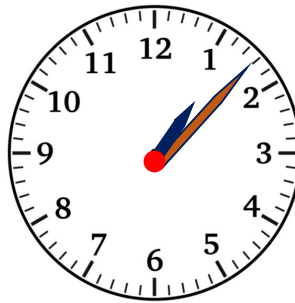
1 ^{ただ}正しい くみあわせになるように せんで むすびましょう。

(1)



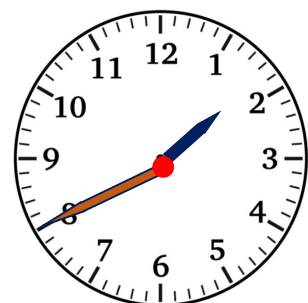
1 じ 40 ぷん

(2)



1 じ 8 ぷん

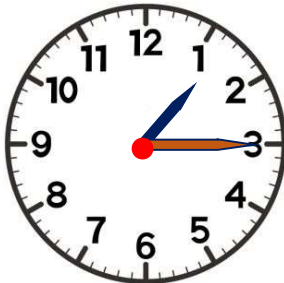
(3)



1 じ 20 ぷん

2 ^{ただ}とけいの よみかたを まちがえています。正しい よみかたに なおしましょう。

(1)



1 じ 3 ぷん

⇒

(2)



1 じ 8 ぷん

⇒

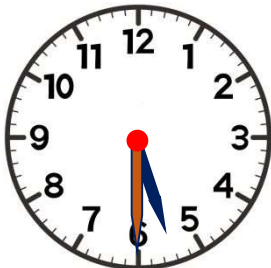
(3)



3 じ 30 ぷん

⇒

(4)



6 じ 30 ぷん

⇒

(5)



9 じ 45 ぷん

⇒

(6)



10 じ 55 ぷん

⇒



() ねん () くみ () ばん

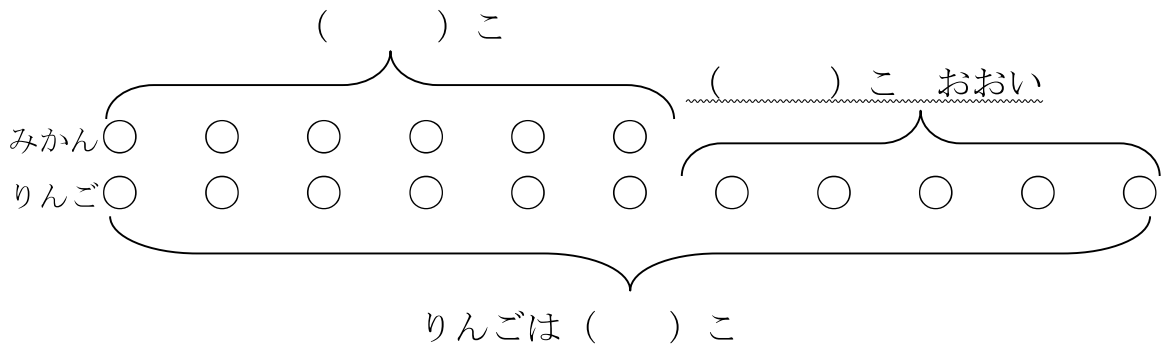
なまえ ()

1

みかんが 6こ あります。
りんごは、みかんより 5こ おおいそうです。
りんごは、なんこ ですか。



(1) したの () に あてはまる かずをかきましょつ。



(3) しきと こたえを かきましよう。

しき

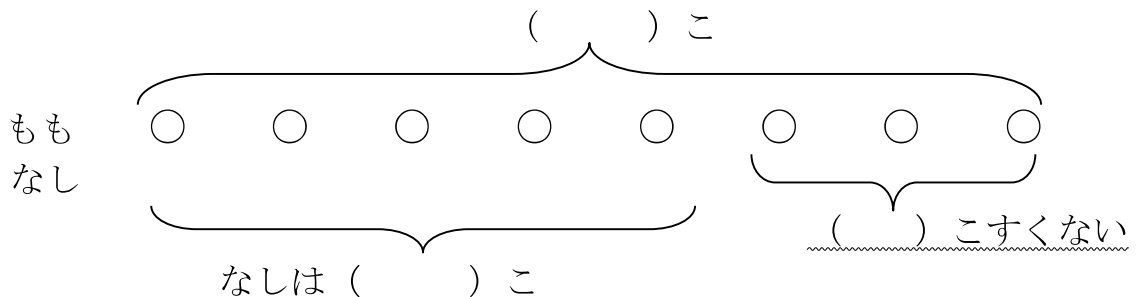
こたえ

2

ももが 8こ あります。
なしは、ももより3こ すくないそうです。
なしは、なんこ ありますか。



(1) したの () にあてはまる かずを かきましよう。



(2) しきと こたえを かきましよう。

しき


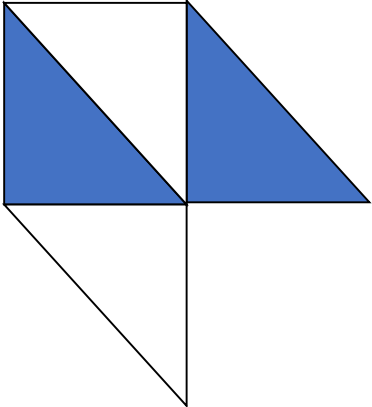
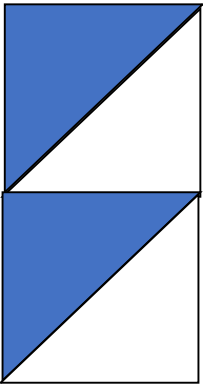
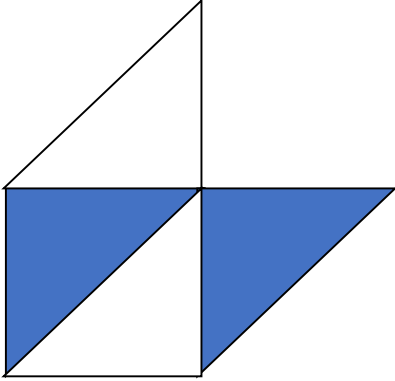
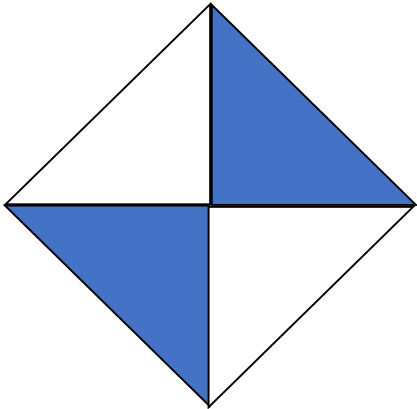
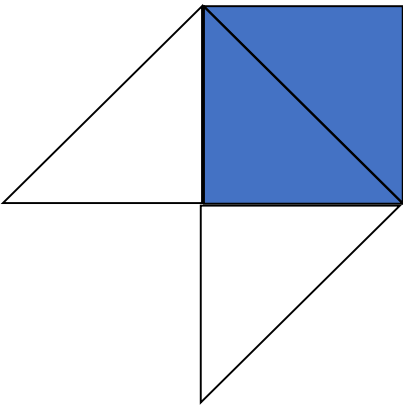
こたえ



() ねん () くみ () ばん

なまえ ()

1 いろいろたを 1まいだけ うごかして かたちを かえました。
うごかした いろいろたは、どれでしょうか。うごかした あとのずに ○を
つけましょう。

<p>① うごかす まえ</p> 	<p>⇒</p> <p>うごかした あと</p> 
<p>② うごかす まえ</p> 	<p>⇒</p> <p>うごかした あと</p> 
<p>③ うごかす まえ</p> 	<p>⇒</p> <p>うごかした あと</p> 

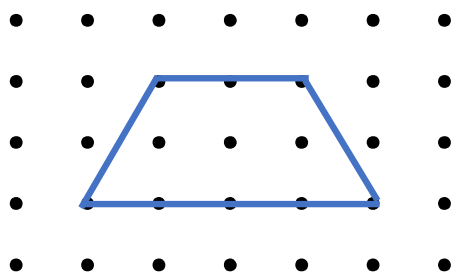


() ねん () くみ () ばん

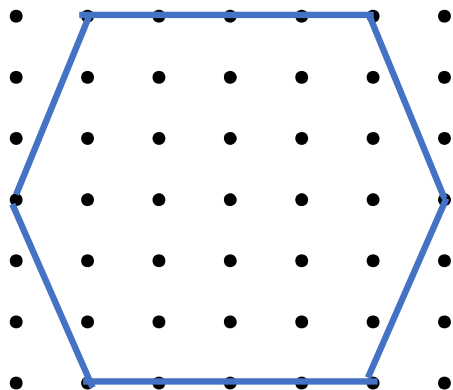
なまえ ()

1 ひだりの かたちと おなじかたちを かきましょう。


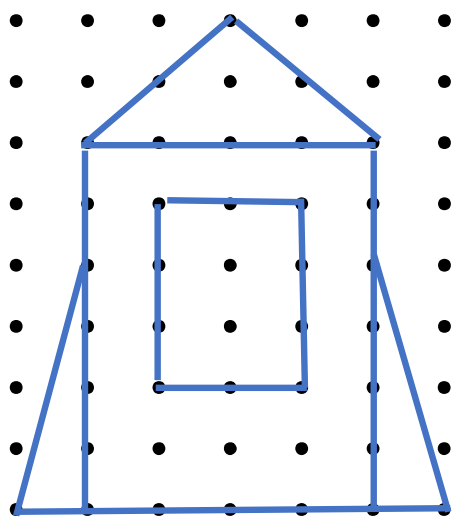
(1)



(2)





(3)

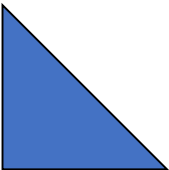





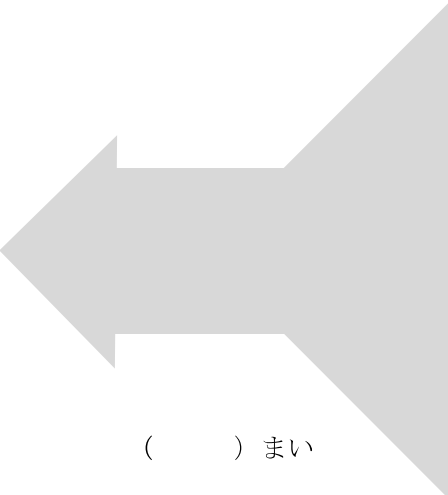




() ねん () くみ () ばん

なまえ ()

1 いろいろいた  を つかって 下のかたちを つくりました。
 いろいろいた  を なんまい つかったでしょう。

(1)	(2)	(3)	
			
() まい	() まい	() まい	
(4)	(5)		
			
	() まい		() まい

2 いろいろいたを 3まい ならべました。つないだところに せんを かきましょう。

(1)	(2)
