




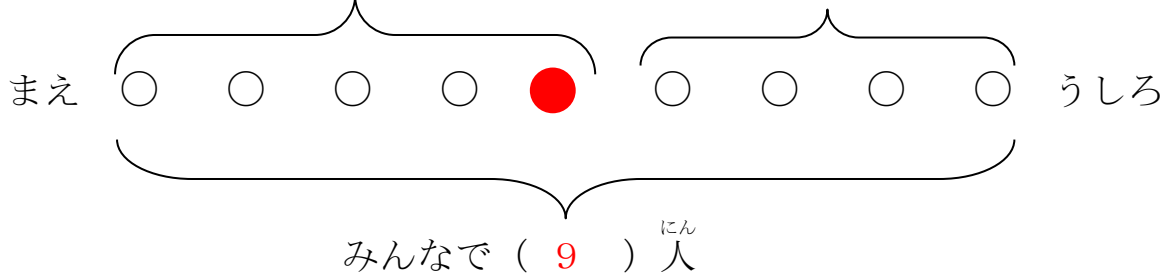
模範解答

() ねん () くみ () ばん
なまえ ()

① みんなが 1れつに ならんでいます。
あいさんは、まえから 5ばん目に います。
あいさんの うしろに、4人 います。
みんなで なん^{にん}人 いますか。



(1) あいさんの いるばしょに、いろを めってください。
(2) したの () にあてはまる かずを かきましょう。
() 人 () 人



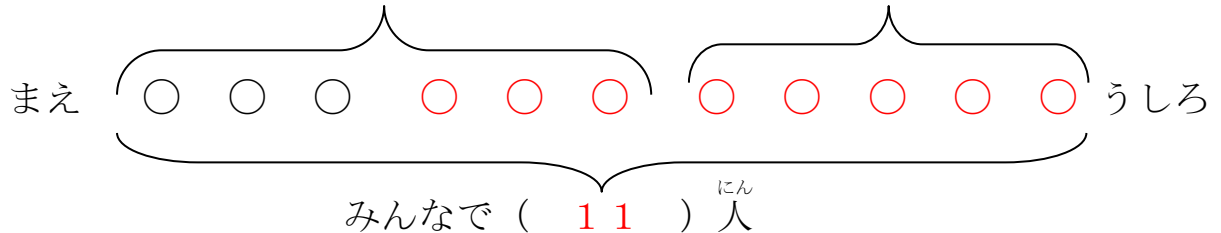
(3) しきと こたえを かきましょう。

しき 5 + 4 = 9 こたえ 9人

② バスていに ひとが ならんでいます。
ゆうさんは、まえから6ばん目に います。
ゆうさんの うしろに5人 います。
みんなで なん^{にん}人 いますか。



(1) したの () にあてはまる かずを かきましょう。
() 人 () 人



(2) しきと こたえを かきましょう。

しき 6 + 5 = 11 こたえ 11人



模範解答

() ねん () くみ () ばん

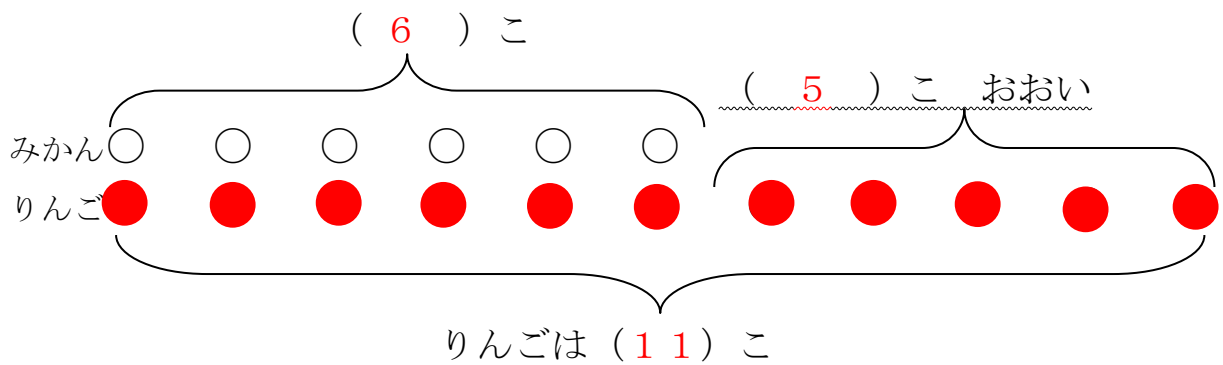
なまえ ()

1

みかんが 6こ あります。
 りんごは、みかんより 5こ おおいそうです。
 りんごは、なんこ ですか。



(1) したの () に あてはまる かずをかきましょう。




(3) しきと こたえを かきましょう。

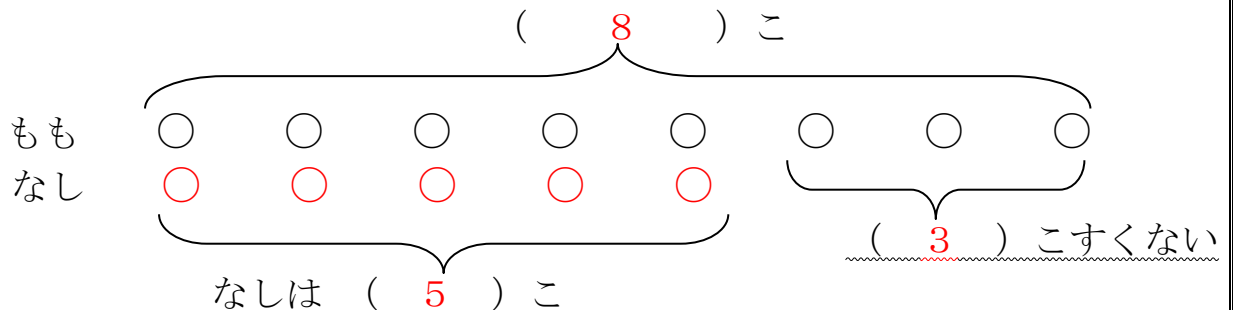
しき $6 + 5 = 11$ こたえ 11こ

2

ももが 8こ あります。
 なしは、ももより 3こ すくないそうです。
 なしは、なんこ ありますか。



(1) したの () にあてはまる かずを かきましょう。



(2) しきと こたえを かきましょう。

しき $8 - 3 = 5$ こたえ 5こ



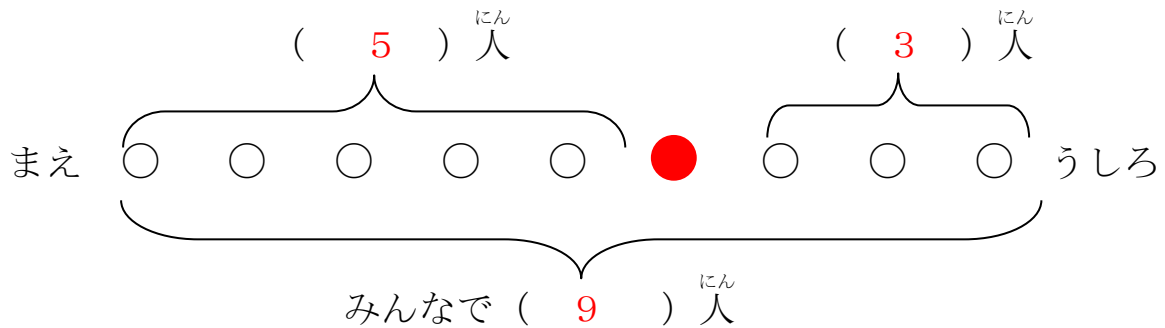
模範解答

() ねん () くみ () ばん
なまえ ()

1

バスでいに ^{ひと} 人が ^{にん} ならんでいます。
 ゆいとさんの ^{にん} まえに 5人 います
 ゆいとさんの ^{にん} うしろに 3人 います。
 ならんでいる人は ^{にん} みんなで なん 人 ですか。

- (1) ゆいとさんの いるばしょに いろを ぬってください。
 (2) したの () に あてはまる かずを かきましょう。



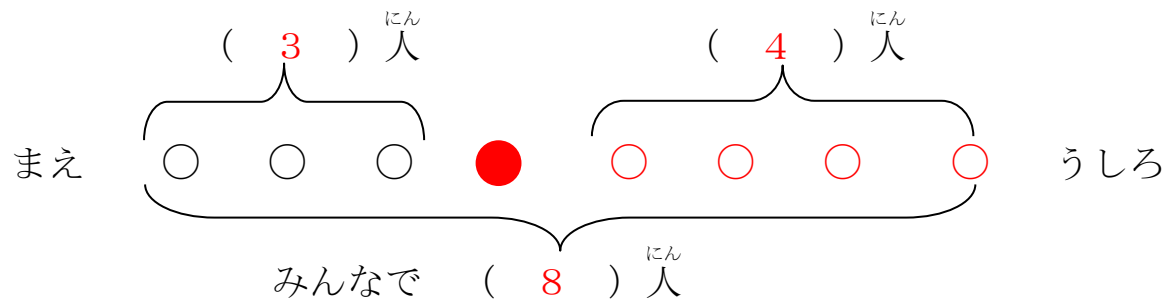
- (3) しきと こたえを かきましょう。

しき $5 + 1 + 3 = 9$ こたえ 9 人

2

みんな ^{にん} で ならんで サイクリングを ^{にん} しています。
 あきとさんの ^{にん} まえに 3人 います。
 あきとさんの ^{にん} うしろに 4人 います。
 みんな ^{にん} で なん 人 いますか。

- (1) したの () に あてはまる かずを かきましょう。



- (2) しきと こたえを かきましょう。

しき $3 + 1 + 4 = 8$ こたえ 8 人

