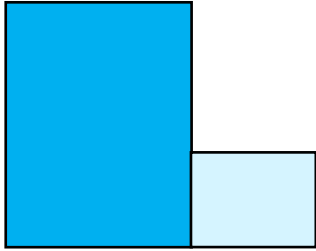





( ) ねん ( ) くみ ( ) ばん

なまえ ( )

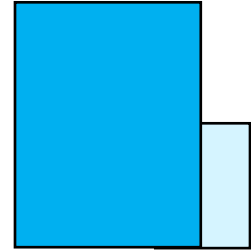
1 いろがよいしの ひろさを くらべます。くらべかたで よいものに ○を つけ きましょう。



( )



( )



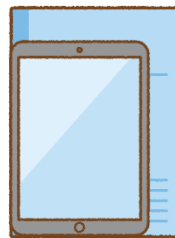

( )

2 ㊦と ㊧では、どちらが ひろいでしょうか。

㊦




㊧





3 ㊨と ㊩では、どちらが ひろいでしょうか。

㊨




㊩


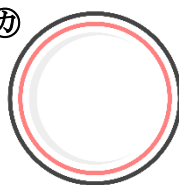


4 ㊪と ㊫では、どちらが ひろいでしょうか。

㊪



㊫



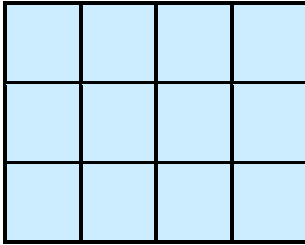


( ) ねん ( ) くみ ( ) ばん


なまえ ( )

1 ㊦と ㊧では どちらが ひろいでしょうか。

㊦

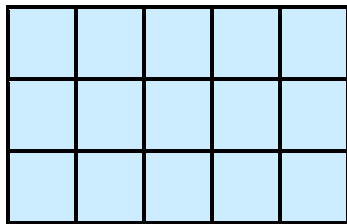


㊧




2 ㊨と ㊩では どちらが ひろいでしょうか。

㊨



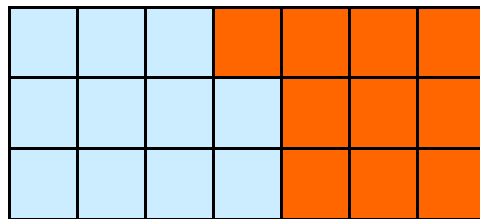
㊩



3 はるとさんと なつみさんが じんとり あそびを しました。 じゃんけんで かったら、1ます めります。 □に はいる かずや ことばを かきましょう。



はると



なつみ

はるとさんは □ ますぶん、 なつみさんは □ ますぶん です。

ひろさを くらべると、 □ さんの ほうが、 □ ますぶん

ひろいです。