



()ねん ()くみ ()ばん

なまえ ()

1 はるみさんは 13-9の けいさんの しかたを いいました。
□に はいる かずを かきましょう。

13を □と □に わけます。

3から 9は ひけません。

□から 9を ひいて、 □になります。

1と 3で 4です。

$$13 - 9 = 4$$

$$\begin{array}{r} 13 \\ -9 \\ \hline 103 \end{array}$$



はるみ

2 つぎの けいさんを しましょう。

(1) 12-8

(2) 15-9

(3) 11-7

(4) 13-6

(5) 11-8

(6) 14-9

3 どんぐりが 12こ あります。
なつおさんは こうさくで 7こ つかいます。
のこりは なんこに なりますか。



しき _____

こたえ _____



() ねん () くみ () ばん

なまえ ()

1 あきとさんは 13-4の けいさんの しかたを つぎの ように かんがえ ました。



あきと

4を 3と 1に わけます。
13から 3を ひいて 10です。
10から 1を ひいて こたえは 9です。

あきとさんの かんがえに あう ずは、 ㊷、 ㊸の どちらですか。

㊷ ○○○○○○○○○○

㊸ ○○○○○○
○○○

2 つぎの けいさんを しましょう。

(1) 12-3

(2) 14-6

(3) 11-2

(4) 13-5

(5) 12-4

(6) 15-6

3 おりがみが 11まい あります。
ふゆみさんは 3まい つかいました。
のこりは なんまいに なりましたか。



しき _____

こたえ _____



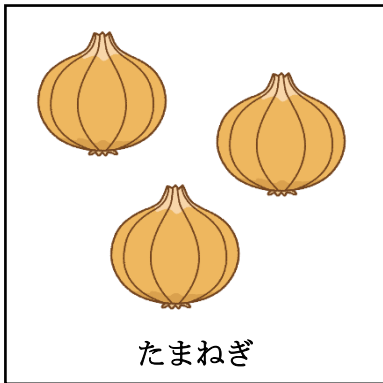


() ねん () くみ () ばん

なまえ ()

1 13-8 の こたえと おなじ こたえの カードに ○を つけましょう。

15-9	14-7	11-6	14-9	13-7
11-7	12-6	13-8	15-6	12-4

2 つぎの えを みて、 もんだいを つくります。
□に あう かずや ことばを [] から えらんで かきましょう。



(1) とまとが □ こ あります。2こ たべました。

[] は なんこ ですか。

(2) きゃべつが □ こ あります。 たまねぎが □ こ あります。

[] は なんこ ですか。

[] 2 3 5 のこり ちがい