



模範解答

() ねん () くみ () ばん

なまえ ()

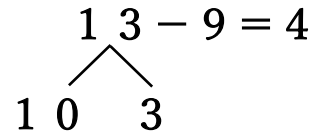
1 はるみさんは 13-9の けいさんの しかたを いいました。
□に はいる かずを かきましょう。

13を **10** と **3** に わけます。

3から 9は ひけません。

10 から 9を ひいて、 **1** に なります。

1と 3で 4です。



はるみ

2 つぎの けいさんを しましょう。

(1) 12-8

(2) 15-9

(3) 11-7

4

6

4

(4) 13-6

(5) 11-8

(6) 14-9

7

3

5

3 どんぐりが 12こ あります。
なつおさんは こうさくで 7こ つかいます。
のこりは なんこに なりますか。



しき 12 - 7 = 5

こたえ 5こ



模範解答

() ねん () くみ () ばん

なまえ ()

1 あきとさんは 13-4の けいさんの しかたを つぎの ように かんがえました。



あきと

4を 3と 1に わけます。
13から 3を ひいて 10です。
10から 1を ひいて こたえは 9です。

あきとさんの かんがえに あう ずは、 ㊦、 ㊧の どちらですか。

㊦ ○○○○○○○○○○

㊧ ○○○○○○
○○○

㊦

2 つぎの けいさんを しましょう。

(1) 12-3

(2) 14-6

(3) 11-2

9

8

9

(4) 13-5

(5) 12-4

(6) 15-6

8

8

9

3 おりがみが 11まい あります。
ふゆみさんは 3まい つかいました。
のこりは なんまいに なりましたか。



しき 11 - 3 = 8

こたえ 8まい



模範解答

() ねん () くみ () ばん

なまえ ()

1 13-8 の こたえと おなじ こたえの カードに ○を つけましょう。

15-9

14-7

11-6

14-9

13-7

11-7


12-6

13-8


15-6

12-4

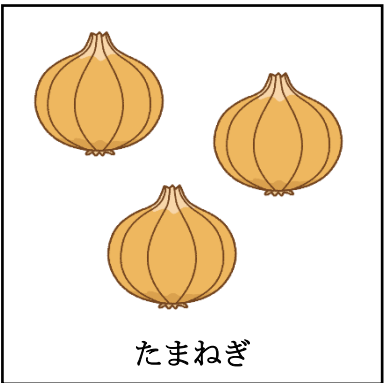
2 つぎの えを みて、 もんだいを つくります。
□に あう かずや ことばを [] から えらんで かきましよう。



きゃべつ



とまと



たまねぎ

(1) とまとが 5 こ あります。2こ たべました。

のこり は なんこ ですか。

(2) きゃべつが 2 こ あります。たまねぎが 3 こ あります。

ちがい は なんこ ですか。

2 3 5 のこり ちがい