

埼玉県学力・学習状況調査 (中学校)

# 復習シート 第2学年 数学



組		番 号		名 前	
---	--	--------	--	--------	--

〔関数〕を問う問題)

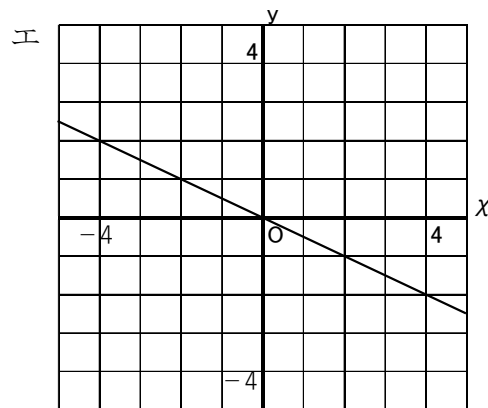
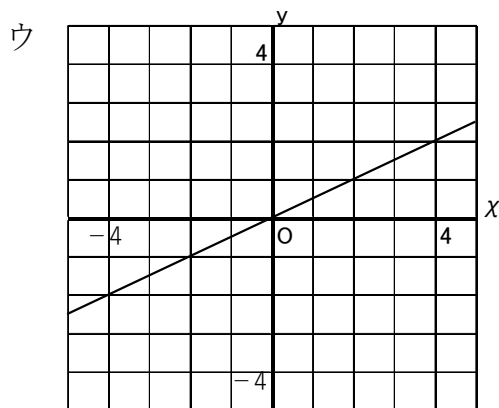
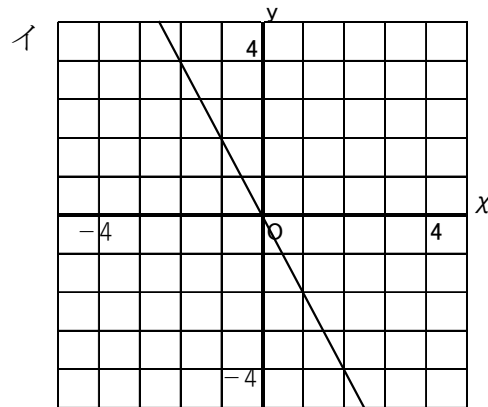
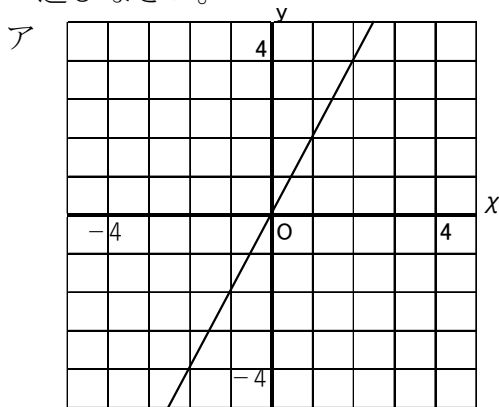
下の表は、 $y$  が  $x$  に比例している関係を表しています。

レベル 8

次の各問に答えなさい。

$x$	...	-4	-3	-2	-1	0	1	2	3	4	...
$y$	...	-2	$-\frac{3}{2}$	-1	$-\frac{1}{2}$	0	$\frac{1}{2}$	1	$\frac{3}{2}$	2	...

(1) 上の表の  $x$  と  $y$  の関係を表すグラフとして正しいものをアからエの中から1つ選びなさい。



答え

(2)  $y$  を  $x$  の式で表しなさい。

答え  
**y =**