

埼玉県学力・学習状況調査（小学校）

# 復習シート 第6学年 算数



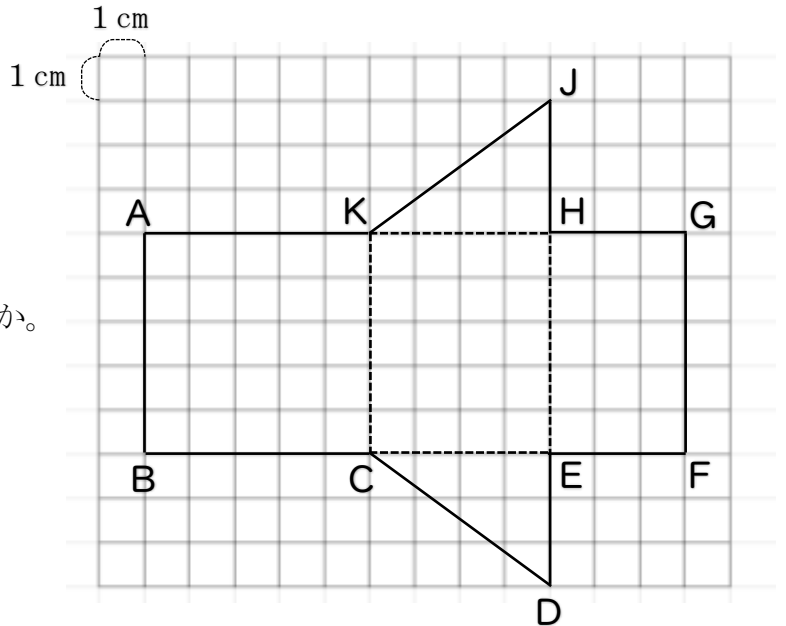
組		番 号		名 前	
---	--	--------	--	--------	--

（「図形」を問う問題）

1 右の角柱の展開図を見て、答えましょう。

(1) 何という角柱ですか。 **レベル6**

答え



(2) この角柱の高さは、何 cm ですか。

**レベル6**

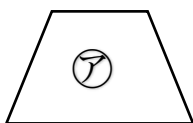
答え

(3) この角柱を組み立てたとき、点Jに集まる点をすべて答えましょう。

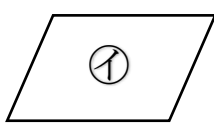
**レベル9**

答え

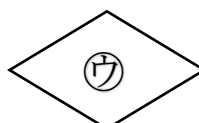
2 次の㉑から㉔の4つの四角形をそれぞれ1本の対角線で切ります。このときできる2つの三角形が合同になるのはどの四角形ですか。㉑から㉔の中からすべて選びましょう。



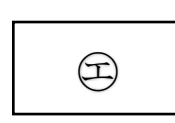
台形



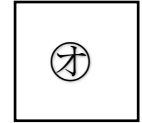
平行四辺形



ひし形



長方形



正方形

**レベル7**

答え