

# 復習シート 第4学年 算数



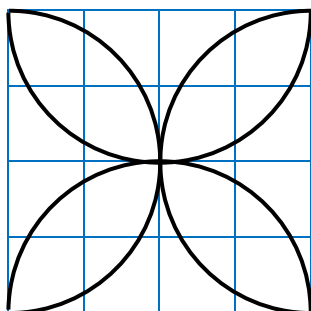
組		番号		名前	
---	--	----	--	----	--

（「図形」を問う問題）

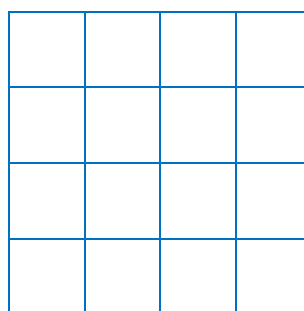

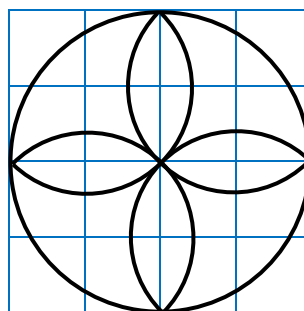
1 コンパスを使って、下のもようをかきましょう。

レベル6

(1)




(2)



2 次の図のように、同じ大きさの球が6こぴったり入っている箱があります。この箱のまわりの長さは、60 cmです。1つの球の半径の長さは何 cmですか。

レベル6



答え

c m