

北方領土検定

(小学校5・6年生用)

この北方領土検定は、北方領土について正しい関心^{かんしん}をもち、正しく理解^{りかい}するための問題です。

問題は、日本の国土及び北方領土の自然・歴史・昔の行政^{ぎょうせい}や産業^{さんぎょう}などについて、合計25問あります。

1問4点で合計100点満点です。

検定時間は、40分です。

得点^{とくてん}と検定レベル(1級から4級まで)の関係は次のとおりです。

80点～100点	1級
60点～76点	2級
40点～56点	3級
0点～36点	4級

各問の解答は選択肢^{かいとう せんたくし}A～Dから1つ選び、その記号を解答用紙に記入しなさい。

埼玉県北方領土教育者会議

(平成31年2月)

Q 1 日本はどのような形の国ですか？

- A：たくさんの島からできた国 B：半島の国
C：大陸の中の面積が小さな国 D：大陸の中の面積が大きな国

Q 2 日本の国の位置やまわりの国はどうなっていますか？

- A：日本は地球の南半球にあり南側にはオーストラリアがある。
B：日本の東側には日本海、西側には大韓民国（韓国）や中国がある。
C：日本の北側にはロシア連邦、東側には大西洋がある。
D：日本の東側には太平洋、西側にはユーラシア大陸がある。

Q 3 日本の国の北のはしと南のはしはどこですか？

- A：北のはしは北海道、南のはしは南鳥島
B：北のはしは宗谷岬、南のはしは小笠原諸島
C：北のはしは択捉島、南のはしは沖ノ鳥島
D：北のはしは納沙布岬、南のはしは与那国島

Q 4 北方領土とは北方四島と呼ばれる島々を指します。その四島とは？

- A：択捉島・国後島・色丹島・歯舞群島（群島はたくさんの島の集まりですが、
ここでは一つの島と考えます）
B：北海道・本州・四国・九州
C：南鳥島・与那国島・沖ノ鳥島・択捉島
D：樺太島・国後島・竹島・魚釣島

Q 5 北方領土の面積に最も近い都道府県は次のうちどこですか？

- A：北海道 B：埼玉県 C：東京都 D：大阪府

Q 6 北海道の納沙布岬から北方領土で一番近い貝殻島までの距離は何 km？

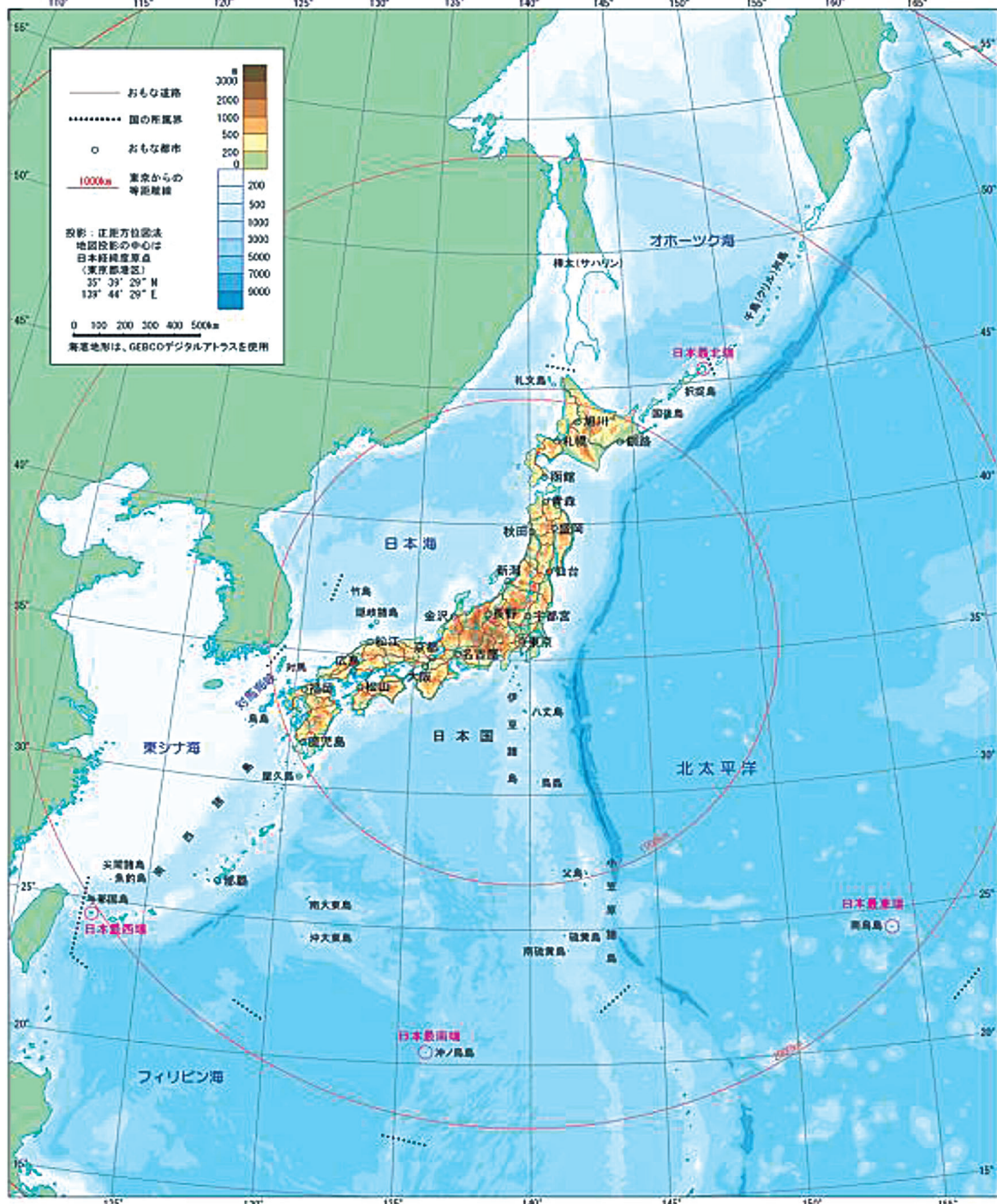
- A：3.7 km B：37 km C：370 km D：3,700 km

Q 7 日本本土の本州、北海道、九州、四国を除き、日本で一番大きい島は？

- A：沖縄島 B：奄美大島 C：択捉島 D：佐渡島

- Q 8 たけしま しまねけん せんかくしょうとう うおつりじま おきなわけん しこたんとう
 竹島は島根県、尖閣諸島の魚釣島は沖縄県の島です。色丹島はどこの島？
- A：東京都 B：北海道 C：大阪府 D：長崎県

日本国とその周辺



国土交通省国土地理院

北方領土の自然と生活

北方領土の自然と生活 今・むかし 人口

第二次世界大戦が終わるまで北方領土の4つの島には、1万7,291人の人々が住んでおりました。この中には、みなさんと同じ小学生もたくさんおり、小学校が39もありました。



色丹島色丹村の子供たち



歯舞群島 氷見島のかんづら工場

各島の人口は1945年当時
住んでいた人口。



やえ島の子ども
は白飯、向とじ
習ったのよ
刀も使?

切腹おしゃんどの
の風聞いどおまよま!



自然

元島民のお話
葉取村はサケ・マス・カニ・タラバニなどが毎年たくさんとれて、鹿・丹精・秋田の方から出稼ぎの人たちが来ると400人足らずの町の人口が1,000人以上になるんです。たくさん釣った魚が屋敷を築りながら川をのぼってゆくの、川が荒えたりしているように見えたものです。

北方領土の島々には、たくさんのお魚たちが住んでいます。キタキツネ、アサラン、オットセイ、トドなどのほか、国後島、択捉島は、森林資源に恵まれていてヒグマも住んでいます。

また、エトビリカ、エンリキヨウ、オジロフシなどのめずらしい魚も多く見かけます。北方領土のまわりの海は、寒流と暖流が撞き合っているため世界の三大漁場のひとつに数えられています。特にサケ、マス、タラバニ、ラバガニ、ハナサキガニ、コンブ、ウニ、タテなどの宝庫です。

北海道にはいろいろな動物が
豊富にいます。いるんが
種類のお魚が釣れたらいいな。

人々の生活

元島民のお話
みなさんはどうやって生活していますか。あの島の島の名前は、とにかく外で遊ぶことがなかったです。夏は川や海で釣りやカモメの卵を捕ったり、女の子はなわとび、ままごと、2年生頃になると針をもつて、祭り布でお人形をつくり、高せ懸えをして遊びました。秋にはハマナス、ガンコウラン、岩ツツジなどの木の葉・草の葉を採りジャムにしたりおやつがわりに食べました。山や川、海がすばらしい遊び場でした。

冬はとてもしばしいです。仮番の日が多く電気、ガス、水道もありません。今の生活と比べると不便だと思うかもしれませんが、島の人たちは和良く、平和に暮らしていました。



葉取一級工場の加工場。新鮮な魚が加工される。(佐藤重雄氏提供)

国後神社の祭礼

北方領土のデータ

北方領土の面積 (km ²)		他の島・県と面積比較 (km ²)		北方領土の人口 (人)
歯舞群島	95	小笠原諸島	104	5,281
(水晶島)	—	—	—	(986)
(秋勇留島)	—	—	—	(88)
(勇留島)	—	—	—	(501)
(志発島)	—	—	—	(2,249)
(多楽島)	—	—	—	(1,457)
色丹島	251	隠岐本島	242	1,038
国後島	1,490	沖縄島	1,207	7,364
択捉島	3,168	鳥取県	3,507	3,608
合 計	5,003	茨城県	6,097	17,291
		栃木県	6,408	
		群馬県	6,362	
		埼玉県	3,798	
		千葉県	5,158	
		東京都	2,191	
		神奈川県	2,416	

※ 面積は国土地理院「平成26年全国都道府県市区町村別面積調」による
(小数点第1位を四捨五入)。

※ 人口は1945(昭和20)年8月15日現在(千島歯舞諸島居住者連盟調べ)。

北方領土	代表的な山	標高
択捉島	西単冠山(にしひとかっぶやま)	1,629m
	散布山(ちりっぶさん)	1,582m
	神威岳(かむいだけ)	1,323m
国後島	爺爺岳(ちゃちゃだけ)	1,772m
	羅臼山(らうすさん)	882m
関東の都県	各都県の最高峰	標高
茨城県	八溝山(やみぞさん)	1,022m
群馬・栃木県	白根山(しらねさん)	2,578m
埼玉県	三宝山(さんぼうやま)	2,483m
千葉県	愛宕山(あたごやま)	408m
東京都	雲取山(くもとりやま)	2,017m
神奈川県	蛭ヶ岳(ひるがたけ)	1,673m

※ 山の標高は国土地理院ホームページによる。

Q 9 次の動物で北方領土にはいない動物は？

- A：ヒグマとオオワシ B：キタキツネとエトピリカ
C：アザラシとオジロワシ D：ツキノワグマとキジ

Q10 北方領土の島の名前がある地図を最初に作ったのはどこの国ですか？

- A：日本 B：中華人民共和国 (中国)
C：ロシア連邦 D：アメリカ合衆国

Q11 日本とロシアが最初の条約により国境を決めたのは何年ですか？

- A：1855年 (江戸時代) B：1885年 (明治時代)
C：1915年 (大正時代) D：1955年 (昭和時代)

※条約：文書に書き記した、国家間または国際機関との間での合意のこと。

Q12 日本とロシアの最初の条約により決まった国境の海を何といいますか？

- A：対馬海峡 B：間宮海峡 C：津軽海峡 D：択捉海峡

Q13 日本とロシアの最初の条約により、樺太はどの国の島になりましたか？

- A：日本の島 B：日本人とロシア人がいっしょに住む島
C：ロシア連邦の島 D：誰も住んではいけない島

Q14 1945 (昭和20)年8月15日 (終戦の日)、北方領土に住んでいた日本人は何人いましたか？

- A：0人 B：291人 C：7,291人 D：17,291人

Q15 日本の領土で現在外国に占拠されている島はどこですか？

- A：沖縄 B：尖閣諸島 C：小笠原諸島 D：北方四島と竹島

※占拠：ある場所を占有して他者を寄せつけないこと。

Q16 1945 (昭和20)年、北方領土にソ連軍が攻めてくる前は、ロシア人は島に住んでいましたか？

- A：昔から住んでいなかった B：江戸時代から住んでいた
C：明治時代から住んでいた D：昭和になってから住むようになった

Q17 1945（昭和20）年、北方領土の島に村（役場）はいくつありましたか？
A：0 B：1 C：4 D：7

Q18 1945（昭和20）年以前、北方領土には日本人の学校、郵便局、神社、寺などがありました。次の施設の中で、なかったものは何ですか？
A：警察署 B：裁判所 C：気象測候所 D：刑務所
※気象測候所：天気等の観測を行う機関のこと。

Q19 1935（昭和10）年、根室と国後島の間が開通したものは何ですか？
A：電話 B：テレビ C：衛星放送 D：インターネット

Q20 現在も北方領土に残っている日本人の墓地はいくつありますか？
A：6 B：13 C：26 D：52

Q21 1945（昭和20）年、北方領土から日本本土への販売食品は何ですか？
A：塩鮭 B：米 C：砂糖 D：味噌

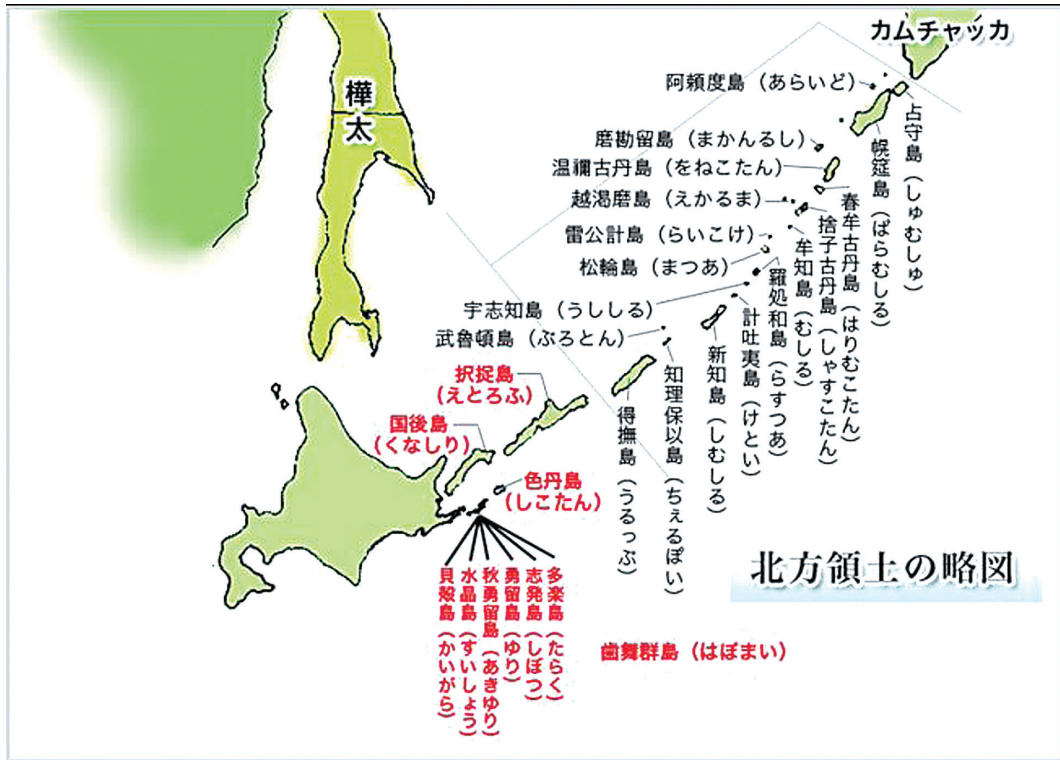
Q22 歯舞群島の水産物で、国内の販売だけではなく、中国にも輸出されていたものがあります。それは何ですか？
A：コンブ B：ウナギ C：真珠 D：サンマ

Q23 北方領土で飼育されていなかった動物は？（ヒント：寒さに弱い）
A：馬 B：牛 C：豚 D：羊

Q24 北方領土の鉱山で採れなかった鉱物は何？
A：金・銀 B：硫黄 C：硫化鉄 D：ダイヤモンド

Q25 北方領土はどこの国のものですか？
A：日本 B：ロシア連邦 C：中華人民共和国 D：アメリカ合衆国

北方領土の略図



北方領土の村と戦前の様子

ほっぽうりょうど ほっぽうよんとう
北方領土（北方四島）には、次の7つの村がありました。

えとろふ しべとろ しべとろ しゃな しゃな えとろふ るべつ
択捉島：薬取郡薬取村、紗那郡紗那村、択捉郡留別村

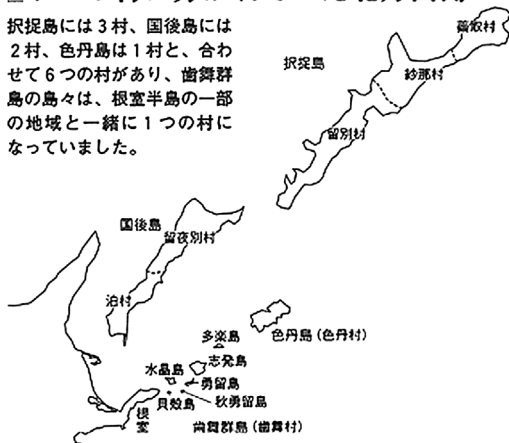
くなしり くなしり るやべつ とまり
国後島：国後郡留夜別村、国後郡泊村

しこたん しこたん しこたん
色丹島：色丹郡色丹村

はぼまい はなさき はぼまい はぼまい ねむろ
歯舞群島：花咲郡歯舞村（歯舞村の役場は、北海道の根室半島にありました）

7つの村に分かれていた北方四島

択捉島には3村、国後島には2村、色丹島は1村と、合わせて6つの村があり、歯舞群島の島々は、根室半島の一部の地域と一緒に1つの村になっていました。



択捉島の薬取郵便局



日本の最北の村 戦前の薬取村



択捉島の集落



択捉島水産会



択捉島 乗馬

戦前の北方四島とその暮らし

【江戸時代】

- ◎ 北方四島が古くから日本に支配されていた土地であることは、さまざまな文献からも証明されています。1604（慶長^{けいちょう}9）年になると、蝦夷地（北海道、樺太^{えぞち}、千島^{からふと ちしま}）は江戸幕府の命令を受けた松前藩が治めるようになりました。松前藩は蝦夷地交易の独占権を持ちながら、北方四島と千島列島に住むアイヌ民族との交流をはじめたと考えられています。
- ◎ その後、1615（元和元^{げんな}）年にもメナシ（羅臼^{らうす}と国後^{くなしり}のことを指すアイヌ名）のアイヌ民族の酋長^{しゅうちょう}エシラケが、多くの船を使って松前を訪れ、地元の人々と交流してきたこと紹介する記述が松前藩の初期の記録「新羅^{しんら}の記録」に記述されています。この記録によると、メナシ地方に住んでいたアイヌの人たちがラッコの毛皮を持ってきて、松前藩主^{ほんしゅ}に貢ぎ物^{みつ}として差し出したということです。

【明治時代】

- ◎ 明治時代は北海道本土をはじめ、北方四島と千島列島の開拓もずいぶん進められた時代でした。1880（明治13）年には新しい行政組織のもと、色丹島、国後島、択捉島の3島に村役場が置かれ、郵便局や小学校も設けられました。道路も港も整備され、しだいに住み良い環境が整えられていったのです。島への移住者が増えていったのもこの頃からでした。

【昭和時代・終戦時】

- ◎ 終戦時、北方四島には約17,000人の日本人が暮らしていました。また、各島に役場が置かれ、郵便局、警察署、小学校等が設けられ、多くの人水産業に従事していました。
- ◎ 終戦時、39校の国民学校などにおいて約3,000人の児童が就学していました。

戦前の主要産業

- ◎ 北方領土周辺の水域は親潮（千島海流）と黒潮（日本海流）が交錯しているため、水産物がきわめて豊富で、古くから世界三大漁場の一つに数えられていました。したがって戦前同水域ではわが国の水産業が盛んでした。主な水産物は、昆布、さけ、ます、たら、すけそうだら、たらばがに、なまこ等です。
- ◎ 1939（昭和14）年から1941（昭和16）年までの3か年の平均水揚高は、約21万トン（当時の金額で約5,200万円）で、北海道全域の23%を占めていました。
- ◎ 水産業のほかに、国後島や択捉島では、林業（針葉樹林）、魚類のふ化事業（サケ、マス）、鉱業（硫黄、硫化鉄、金、銀など）が、また国後島では畜産業（馬、牛、羊など）がおこなわれていました。

<資料 出典>

- P.2・3 図「日本国とその周辺」及び「北方領土の自然と生活」
独立行政法人北方領土問題対策協会ホームページ
- P.4 表「北方領土データ」
面積は国土地理院「平成26年全国都道府県市区町村別面積調」(小数点第1位を四捨五入)
人口は1945(昭和20)年8月15日現在(千島歯舞諸島居住者連盟調べ)
山の標高は、国土地理院ホームページ
- P.7 図「北方領土の略図」
独立行政法人北方領土問題対策協会ホームページ
- P.7・8 資料「北方領土の村と戦前の様子」
独立行政法人北方領土問題対策協会ホームページ(一部修正)
写真5葉
「移りゆく北方四島記録集～歯舞群島・択捉島～」(平成27年3月)及び
「戦前の北方四島写真収録集」(平成24年度)添付の写真CD
(発行元はすべて公益社団法人千島歯舞諸島居住者連盟)
- P.8・9 資料「戦前の北方領土とその暮らし」「戦前の主要産業」
独立行政法人北方領土問題対策協会ホームページ(一部修正)

◎参考資料

- 1 東京書籍「新編 新しい社会 5上」(平成26年4月4日検定済、平成30年2月10日発行)
- 2 東京書籍「新編 新しい社会 5下」(平成26年4月4日検定済、平成29年7月10日発行)
- 3 東京書籍「新編 新しい社会 6上」(平成26年4月4日検定済、平成30年2月10日発行)
- 4 東京書籍「新編 新しい社会 6下」(平成26年4月4日検定済、平成29年7月10日発行)
- 5 帝国書院「楽しく学ぶ 小学生の地図帳 4・5・6年」(平成26年4月4日検定済、平成30年1月25日発行)
- 6 「日本の領土 北方領土」根室市・独立行政法人北方領土問題対策協会発行

小学校の先生方へ

「北方領土検定」実施上の留意点

この「北方領土検定」は、検定という形式になっていますが、学童に北方領土問題について正しい関心をもち、正しく理解してもらうために、楽しくクイズ形式で学ぶことを趣旨とした学習教材です。

そのため、検定問題中に図表や資料文も掲載し、検定時間内に学習することができるものになっています。

- 1 問題は、北方領土の自然・歴史・昔の行政や産業などに関するものです。検定時間は40分間ですが、途中で先生方の説明を加えてもかまいません。
- 2 得点と検定レベル（1級から4級まで）の関係は、あくまで目安としてください。検定レベルは、生徒に優劣をつけるものではなく、学習の励みとなるようにご指導をお願いします。

この「北方領土検定」を、学習指導要領の趣旨に沿って、授業、補習、総合学習または家庭学習の教材として、使用していただければ幸いです。

平成31年2月

埼玉県北方領土教育者会議